





1-



**Trafik kazası ile ilgili yapılan yorumlara bakıldığında aşağıdaki yargılardan hangisine ulaşılabilir?**

- A) Olayların birden fazla nedeni olabilir.
- B) Bir olayın birden çok sonucu olabilir.
- C) Her birey olaylardan aynı etkilenir.
- D) Olaylar birbirine benzerler.

**2- Aşağıdaki öğrencilerden hangisi sosyal bilgiler dersinin kendi gelişimlerine katkısı ile ilgili yanlış bir örnek vermiştir?**

- A)  Farklılıklara saygı gösteriyorum.
- B)  Yaşadığım çevreyi tanıyorum.
- C)  Yazım kurallarını biliyorum.
- D)  Kültürel mirası tanıyorum.

**3- Merhaba, benim adım Paduhepa. Hattuşa'da yaşıyorum. İki katlı, dört odalı ve avlulu olan evimizin odalarının birinde ocağımız bile var. Komşu ülkeler bize "Bin Tanrı İli" diyor. Kutlamalarımızda tanrılarımıza kurbanlar keseriz. Kuraklıktan etkilenmemek için tahıl deposu ve baraj yaptırдық. Yaşadığımız önemli olayları yazdığımız Anal adını verdiğimiz yıllıklar da hazırlıyoruz.**

**Buna göre Hititler ile ilgili aşağıdaki bilgilerden hangisine ulaşamaz?**

- A) Tek tanrılı dine inanmışlardır.
- B) Tarım ile uğraşmışlar.
- C) Yazıyı kullanmışlardır.
- D) Yerleşik bir yaşam sürmüşlerdir.

4- Türkülerimiz halkımızın zengin kültürünü yansıtan, belirli bir ezgiyle söylenen ögelerdir. Her birinin hikâyesi farklıdır. Toplum ve insan hayatında derin izler bırakan kahramanlık, savaş, ayrılık, doğal afet, yas, düşün, aşk gibi olaylar türkülerimize konu edilir. Başlangıçta sahibi bellidir. Zamanla dilden dile dolaşır, halka mal olur. Bu kültürel değerlerimizi yaşatanların başında aşıklar gelir.

**Buna göre aşağıdakilerden hangisi türkülerimizin özelliklerinden değildir?**

- A) Halka mal olmuş kültürel değerlerimizdendir.
- B) Bütün türkülerin konusu aynıdır.
- C) Aşıklar sayesinde günümüze kadar gelmiştir.
- D) Her türkünün kendine has hikâyesi vardır.

5- Doğada insan eli değmeden oluşan, gezilip görülebilecek eşsiz güzellikteki yerler ve unsurlar doğal varlık olarak nitelendirilir.

**Buna göre aşağıdakilerden hangisi doğal varlıklara örnek olarak gösterilebilir?**

A)



**Boraboy Gölü, Amasya**

B)



**Galata Kulesi, İstanbul**

C)



**Akdamar Kilisesi, Van**

D)



**Para**

6- • Karalar üzerinde bulunan çukurlara suların birikmesiyle oluşan yer şeklidir.

- Yeryüzünün, çevresine göre yüksek olan ve oldukça geniş bir alana yayılan bölümleridir.
- Çevresine göre alçakta kalan geniş düzlüklerdir.

**Yukarıda verilen tanımlar ile aşağıdaki seçenekler eşleştirildiğinde hangi seçenek dışarıda kalır?**

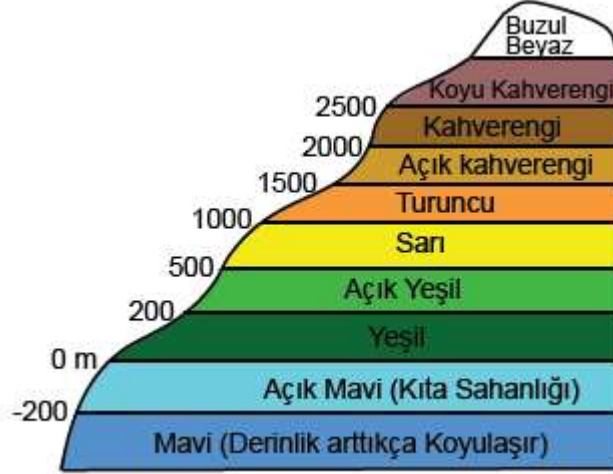
A) Ova

B) Göl

C) Vadi

D) Dağ

7- Fiziki haritalarda yer şekillerini daha belirgin gösterebilmek için yükselti basamakları aşağıdaki renklerle ifade edilir.



Buna göre aşağıdakilerden hangisi söylenemez?

- A) Denizler mavi renk ile gösterilir.
- B) Yükselti arttıkça kahverenginin tonu koyulaşır.
- C) Ovaların tümü yeşil renkle gösterilir.
- D) Beyaz renkler kalıcı karları gösterir.

8- Toprağın akarsular, sel suları ve rüzgârlar gibi dış etkenlerle aşındırıp bulunduğu yerden başka bir yere taşınması olayına - - - - denir.

Yukarıdaki metinde boş bırakılan yere aşağıdakilerden hangisi getirilmelidir?

- A) Deprem
- B) Erozyon
- C) Çiğ
- D) Heyelan

9- Trabzon, Rize ve Giresun'un dağlık kesimlerinde nüfusun seyrek olmasında;

- I. su kaynakları,
- II. ormanların varlığı,
- III. yer şekilleri

unsurlarından hangilerinin etkisi vardır?

- A) Yalnız I.
- B) Yalnız II.
- C) I ve II.
- D) II ve III.

10- Aşağıdakilerden hangisi doğal afetlerde meydana gelebilecek can ve mal kayıplarını azaltmaya yönelik yapılabilecek uygulamalardan değildir?

- A) Dere yataklarına yerleşilmesi
- B) Doğal bitki örtüsünün korunması
- C) Az katlı binalar inşa edilmesi
- D) Ağaçlandırma yapılması

- 11- Sosyal Bilgiler dersi öğrencileri toplumsal hayata hazırlayıp onların sosyal yanını geliştirmesinin yanında onlara tarih, coğrafya ve vatandaşlık bilgisi veren bir bilim dalıdır.

**Yukarıdaki açıklama dikkate alınarak aşağıdakilerden hangisi Sosyal Bilgiler dersinin kapsamı içerisine girmez?**

- A) Yaşadığımız çevrenin coğrafi özelliklerini öğrenmemizi sağlar.  
B) Haklarımızı ve sorumluluklarımızı öğretir.  
C) İnsan vücudunun yapısını öğrenmemizi sağlar.  
D) Ülkemizdeki ekonomik faaliyetler hakkında bilgi edinmemizi sağlar.

- 12- Toplumda yaşayan insanlar bir olaydan farklı şekilde etkilenebilirler. Olayların birden fazla nedeninin ve sonucunun olmasına insanların bu olaylardan farklı şekillerde etkilenmesine olayların çok boyutluluğu denir.

**Buna göre aşağıda verilen durumlardan hangileri çok boyutlu olay olarak değerlendirilemez?**

- A) Organ bağışında bulunulması  
B) Mahalleye yeni bir okul açılması  
C) Sel felaketinin meydana gelmesi  
D) Akşam yatmadan önce kitap okunması

- 13- Ben Ahmet 5. sınıfa gidiyorum, Okuldan sonra derslerimi bitirip boş zamanlarımda kitap okumayı ve zekâ oyunlarını oynamayı çok seviyorum. Ara sıra da babamla sahilde balık tutmaya gidiyor kumsalda beraber top oynuyoruz. Eve geldiğimizde yemek yedikten sonra babamla sohbet ediyoruz söylediklerimi dikkatlice dinliyor ve benim düşüncelerime ve kararlarıma çok değer veriyor.

**Buna göre Ahmet, çocukların sahip olduğu hangi haktan bahsetmemiştir?**

- A) Sağlık Hakkı  
B) Eğitim hakkı  
C) Oyun hakkı  
D) Düşünceyi açıklama hakkı

- 14- Yaz tatilinde babasıyla birlikte Anadolu Medeniyetleri Müzesine giden Metehan, MÖ 1800-750 yılları arasında yaşamış bir medeniyete ait demir kılıçlar ve altından yapılmış süs eşyaları görmüştür. Ayrıca yünlü dokumadan yapılmış kumaş parçaları, tohum kalıntıları, at eğerleri gibi eşyaları da incelemiştir.

**Buna göre Metehan'ın incelediği medeniyet hakkında aşağıdakilerden hangisi söylenemez?**

- A) Ticaretleri gelişmiştir.  
B) Tarımla uğraşmışlardır.  
C) Madencilikte ilerlemişlerdir.  
D) Hayvancılıkla uğraşmışlardır.

- 15- **Tarihi Varlık:** Geçmişte yaşamış uygarlıklardan bugüne kadar gelen kalıntı, eser, nesne ve mimari gibi alanlarda insanların ortaya koyduğu eserlerdir.

**Doğal Varlık:** İnsan elinden çıkmayan, kendiliğinden ya da doğal yollarla oluşan varlıklardır.

**Bu bilgilere göre ülkemizdeki tarihi varlıklara örnek vermek isteyen bir öğrenci aşağıdakilerden hangisini söylerse hata yapmış olur?**

- A) Galata Kulesi
- B) Peri Bacaları
- C) Safranbolu Evleri
- D) Malabadi Köprüsü

- 16- Dinî bayramlarda aile bireyleri bayramlaşır; akrabalar, komşular, arkadaşlar ziyaret edilir. Büyükler ziyaret edilerek elleri öpülür. Bayramlarda sofralar kurulur, akraba ve komşularla bir arada yemekler yenilir. Birbirine dargın insanlar barışır. Uzun süre birbirini görmeye fırsat bulamayanlar bayramlarda birbirlerini ziyaret eder. Eve gelen misafirlere ikramlarda bulunur.

**Buna göre dinî bayramların;**

- I. Birlik ve beraberliğin pekişmesi
- II. Sevgi ve saygı duygusunun güçlenmesi
- III. Huzur ve mutluluğun artması

**durumlarından hangilerine katkı sağladığı söylenebilir?**

- A) Yalnız I
- B) Yalnız II
- C) II ve III
- D) I, II ve III

- 17- Aşağıdaki haritada Marmara Denizi ve çevresi gösterilmektedir.



- I. Ada: Dört yanı sularla çevrili kara parçası
- II. Körfez: Denizin, türlü biçimlerde, karanın içine sokulmuş parçası
- III. Yarımada: Bir tarafından ana karaya bağlı, üç tarafı denizlerle çevrili kara parçası

**Tanımları verilen yeryüzü şekillerinin hangileri harita üzerinde bulunmaktadır?**

- A) Yalnız I
- B) I ve II
- C) II ve III
- D) I, II ve III

18-

Ülkemizde görülen iklimlerin etkili olduğu yerlerde kendiliğinden yetişen bitki topluluklarına doğal bitki örtüsü denir.

**Buna göre iklim ve bitki örtüsü eşleştirmelerinden hangisi doğrudur?**

	Maki	Bozkır	Orman
A)	Karasal iklim	Akdeniz iklimi	Karadeniz iklimi
B)	Karadeniz iklimi	Karasal iklim	Akdeniz iklimi
C)	Akdeniz iklimi	Karadeniz iklimi	Karasal iklim
D)	Akdeniz iklimi	Karasal iklim	Karadeniz iklimi

- 19- I. İstanbul ve çevresinde sanayi faaliyetlerinin gelişmiş olmasından dolayı nüfus yoğunluğu fazladır.  
 II. Tuz Gölü ve çevresinde kuraklık ve toprakların verimsiz olması nedeni ile nüfus yoğunluğu azdır.  
 III. Ardahan ve çevresinde yükseltinin fazla olması, kış mevsiminin çok soğuk ve kar yağışlı geçmesinden dolayı buralarda nüfus yoğunluğu azdır.  
 IV. Antalya ve çevresinde turizm faaliyetlerinin gelişmiş olmasından dolayı nüfus yoğunluğu fazladır.

**Buna göre verilen şehirlerimizde nüfusun dağılışını etkileyen faktörler aşağıdaki seçeneklerin hangisinde doğru verilmiştir?**

	Beşeri Özellikler	Doğal Özellikler
A)	I ve II	III ve IV
B)	I ve III	II ve IV
C)	I ve IV	II ve III
D)	IV	I,II ve III

- 20- Hava kirliliği; atmosferde toz, duman, gaz, su buharı şeklindeki kirleticilerin, insan ve diğer canlılara zarar verecek düzeye erişmesidir. Trafik, sanayi ve ısınma sistemleri hava kirliliğinin başlıca kaynaklarıdır. Hızlı kentleşme, şehrin yanlış bölgelere kurulması, kalitesiz yakıtlar ve uygun olmayan yakma sistemleri gibi sebepler de hava kirliliğinin artmasına yol açmaktadır.

**Buna göre aşağıdakilerden hangisi hava kirliliğini önlemek amacıyla yapılacak bir uygulama olamaz?**

- A) Binalarda ısı yalıtımı yapılarak enerji tasarrufu sağlanması  
 B) Konutlarda doğalgaz yerine kömür kullanımının teşvik edilmesi  
 C) Toplu taşıma araçlarının tercih edilerek trafikteki araç yoğunluğunun azaltılması  
 D) Sanayide ve evlerin ısıtılmasında güneş ve rüzgâr enerjisi gibi alternatif enerji kaynaklarının kullanılması