



SOSYAL BİLGİLER DERSİ



- 1- Bu testte 20 soru vardır ve sınav süresi 40 dakikadır.
 2- Değerlendirme 100 tam puan üzerinden yapılacaktır.
 3- Sınav puanınızın hesaplanmasında sadece optik forma işaretlediğiniz doğru cevaplarınız dikkate alınacaktır.

1.

- Maddi durumu yetersiz öğrencilere burs vermek
- Kızılay'a kan bağışında bulunmak
- Okul önlerindeki yaya geçidine yaklaştıkça aracın hızını daha da artırmak
- Öğretmen masasına taraftarı olduğu takımın logosunu kazımak
- Tema'nın Uşak ilindeki ağaç dikim etkinliğine katılmak

Beden Eğitimi Öğretmeni Gökhan'ın sergilediği yukarıdaki davranışlardan kaç tanesi toplumsal yardımlaşma ve dayanışma açısından olumlu davranıştır?

- A) 2 B) 3 C) 4 D) 5

2.

Aşağıdakilerden hangisi Ortaokul 6. Sınıf öğrencisinin sahip olabileceği temel haklar arasında yer almaz?

- A) Çalışma Hakkı B) Yaşama Hakkı
 C) Seyahat Hakkı D) Eğitim Hakkı

3.

II. Köktürk Devleti hükümdarı Bilge Kağan, kurultayda devletin güvenliği konusunda, **“ Yaşadığım bölgelerin etrafını surlarla çevirip daha güvenli bir şekilde yaşayalım.”** demiştir. Kurultayda bu sözler tartışılmış ama sonuçta kabul edilmemiştir.

Bu durum aşağıdakilerden hangisini göstermektedir?

- A) Kurultayda son söz hükümdara aittir.
 B) Kurultay hükümdarın sadece danışma meclisidir.
 C) Kurultayda sadece ülke sınırları meselesi görüşülür.
 D) Hükümdarın yetkileri sınırlıdır.

4.

Hız. Muhammed'in vefatından sonra yaşanan Dört Halife Dönemi'nin aynı zamanda “ Cumhuriyet Dönemi ” olarak ifade edilmesinin nedeni aşağıdakilerden hangisi olabilir?

- A) Mekke'nin tamamen putlardan temizlenmesi
 B) İslamiyet'in Arap Yarımadası dışına yayılması
 C) Halifelerin seçimle işbaşına gelmesi
 D) Halifelerin girdiği tüm savaşları kazanması

5.

Türklerin İslamiyet'i kabulü ile birlikte Türk devletlerinin yönetim alanında bazı değişiklikler olmuştur.

Aşağıdakilerden hangisi İslamiyet'i kabulü ile Türk devletlerinde görülen değişikliklerden biri değildir?

- A) Hükümdarlar halife tarafından onaylanmaya başladı.
 B) Hükümdarlık babadan oğula geçen sisteme dönüştü.
 C) Halife adına hutbe okutulmaya başlandı.
 D) Kurultay, divan adı verilen meclise dönüştü.

6.

- Pasinler Savaşı
- Malazgirt Savaşı
- Miryokefalon Savaşı

Yukarıda verilen savaşların sonuçları düşünüldüğünde varılabilecek ortak yargı aşağıdakilerden hangisidir?

- A) Anadolu'da Bizans'ın üstünlüğü söz konusudur.
- B) Türklerin Çinlilere üstünlük sağladığı savaşlardır.
- C) Anadolu'da Türk kültürünün ve hâkimiyetinin genişlemesine katkı sağlayan savaşlardır.
- D) Orta Asya'da bilim ve sanatın gelişmesine katkı sağlamışlardır.

7.

Aşağıda verilenlerden hangisi ülkemizde yürürlükte olan **Fikir ve Sanat Eserleri Kanunu** kapsamında doğru bir ifadedir?

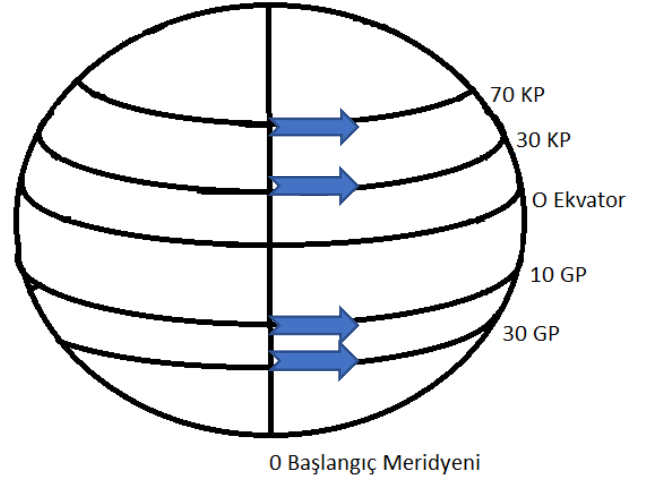
- A)Tüm yazılı eserleri dilediğimiz zaman fotokopiyle çoğaltabiliriz.
- B)Eser sahibinin iznini almadan eserinde kısaltma yaparsak çoğaltabiliriz.
- C)Eser sahibi korsanı destekleyip eserinin ucuza satılmasını desteklemelidir.
- D)Eser sahibi, isterse buluş ve eserini devredip; yasal yollarla ticaretini yapabilir.

8.

Aşağıda verilen “ **Ekonomik faaliyetler ve en fazla yapıldığı bölge eşleştirmesi tablosu** ” hangi seçenekte **doğru** olarak eşleştirilmiştir?

	Sanayi	Seracılık	Ormancılık	Tarım
A)	İç Anadolu	Karadeniz	Akdeniz	Marmara
B)	Marmara	Akdeniz	Karadeniz	İç Anadolu
C)	Karadeniz	İç Anadolu	Marmara	Akdeniz
D)	Akdeniz	Marmara	İç Anadolu	Karadeniz

9.



Yukarıda ekvator çizgisi ile birlikte farklı dört paralel daha gösterilmektedir. Bu dört paralel ile başlangıç meridyenin birleştiği noktalar üzerinden 4 adet uçak aynı anda havalanmıştır. **Uçakların dördü de aynı hızla ve doğuya doğru uçtuğuna göre, hangi paralel noktası üzerindeki uçak 1 saat sonra daha fazla meridyenden geçmiştir?**

- A)30 KP üzerindeki uçak
- B)70 KP üzerindeki uçak
- C)10 GP üzerindeki uçak
- D)30 GP üzerindeki uçak

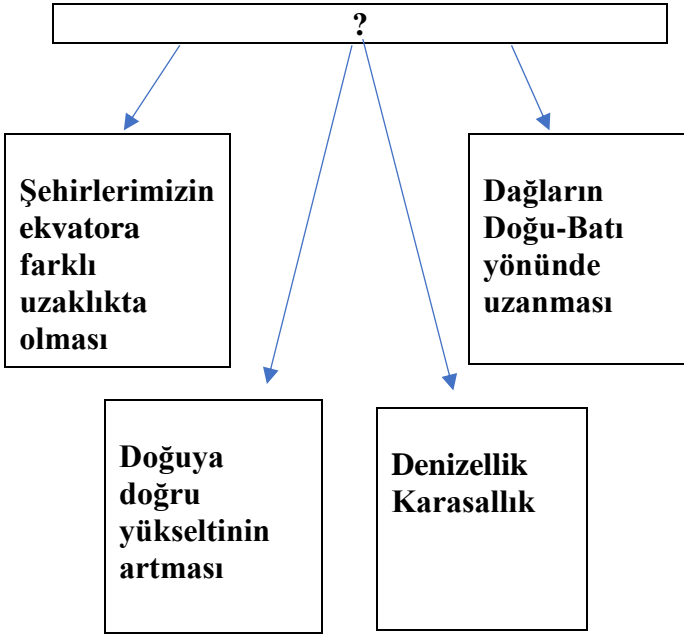
10.

Atatürk, bilim ve teknolojinin toplumsal gelişim için gerekli ve önemli olduğunu vurgulamıştır. Bilimsel düşünme becerisinin halk içinde yayılması için çaba harcamıştır.

Bu kapsamda aşağıdakilerden hangisi Atatürk'ün sosyal bilimlerin gelişimi için açılmasına öncülük ettiği kuruluşlar arasında yer almaz?

- A) Türk Hava Kurumu
- B) Türk Tarih Kurumu
- C) Türk Dil Kurumu
- D) Dil, Tarih ve Coğrafya Fakültesi

11.



Şemada “ ? ” ile gösterilen yere yazılabilecek en uygun başlık aşağıdakilerden hangisidir?

- A) Ülkemizin Kuzey Yarımküre 'de bulunmasının sonuçları
- B) Ülkemizdeki madenlerin dağılışının nedenleri
- C) Ülkemizde görülen iklim çeşitliliğinin nedenleri
- D) Ülkemizde sanayinin gelişme nedenleri

12.

Aşağıda XI. yüzyılda Anadolu'ya ve Kudüs'e düzenlenen Haçlı Seferleri'nin bazı sonuçları verilmiştir.

Verilen sonuçları sınıflandırdığımızda hangi sonuç farklı bir alanda yer alır?

- A) Avrupa'da derebeylik sistemi zayıflamıştır.
- B) Avrupa'da merkezi krallık güçlenmiştir.
- C) Avrupa'da din adamlarına duyulan güven azalmıştır.
- D) Anadolu'ya saldıran bazı derebeyleri geri dönemedi.

13.

*Zeytin *Haşhaş *İncir
*Üzüm *Tütün

Yukarıda verilen tarım ürünleri en çok hangi bölgemizde yetişmektedir?

- A) Ege Bölgesi B) İç Anadolu Bölgesi
- C) İç Anadolu Bölgesi D) Güneydoğu Anadolu Bölgesi

14.

Ünlü fizikçi Einstein (Aynştayn), “Hayal gücü bilgiden daha önemlidir.” Diyerek geleceğin mucitlerine yol göstermiştir.

Aşağıdaki ifadelerden hangisi Einstein'ın bu sözünü desteklemez?

- A) Farklı fikirler üretebilmek hayal gücü ile mümkün olabilir.
- B) İmkânsız gibi görülenler hayal gücü ile gerçekleşebilir.
- C) Hayal gücü ile ortaya çıkan teknolojik gelişmeler çoğunlukla insanlara zarar verir.
- D) Hayal gücü mucitlerin önemli özelliklerindedir.

15.

Halil; Orta Asya İklim Koşullarının ilk Türk Devletleri'nin yaşam biçimine etkilerini araştırmak istiyor. Bunun için araştırmasında kitap, dergi ve ansiklopedilerden faydalanıyor. Araştırması ile ilgili birçok bilgi elde etmiştir.

Halil araştırmasında, bilimsel araştırma basamaklarını sırasıyla yaptığına göre henüz hangi araştırma basamağına geldiğini söyleyemeyiz?

- A) Problemin Ortaya konması
- B) Sürenin belirlenmesi
- C) Rapor oluşturmak
- D) İlgi ve yeteneğe göre konuyu belirlemek

16.

Aşağıda dünyada görülen bazı iklimlere ait bazı bilgiler verilmiştir.

Verilen eşleştirmelerden hangi iklim tipi ile ilgili tablodaki bilgiler **yanlıştır**?

	İklim	İnsanların ulaşımında kullandığı Araç ve Hayvanlar	İnsanların Geçim Kaynağı	Konut Tipi
A)	Kutup İklimi	Köpeklerin çektiği kızaklar	Balıkçılık, avcılık	Buzdan evler
B)	Muson İklimi	Tekneler, deniz taşıtları	Pirinç	Ahşap Evler
C)	Akdeniz iklimi	Kara, hava ve deniz araçları	Tarım, sanayi, turizm	Taş evler
D)	Ekvatorial İklim	Köpeklerin çektiği kızaklar	Sanayi	Buzdan evler

17.

Doğal Kaynakların Bilinçsizce Tüketilmesinin Sonuçları

? ↓ ? ↓ ? ↓ ? ↓

Verilen şemadaki soruya cevap olarak gösterilen oklara karşılık gelecek şekilde aşağıdakilerden hangisi yazılamaz?

- A) Erozyonun azalmasına neden olabilir.
- B) Hava kirliliği artabilir.
- C) Yabani hayvanların hayatı tehlikeye girebilir.
- D) Küresel ısınma ile buzullar eriyebilir.

18.

Uzun yıllar Almanya’da çalışan Mehmet CAN isimli gurbetçi vatandaşımız yıllarca Almanya’da çalışıp elde ettiği kazancıyla birlikte Türkiye’ye göç etmiş ve ülkesine yatırım yapmak istemiştir.

Mehmet Can’ın “hammaddeye yakınlık” ilkesine göre aşağıdaki yatırım örneklerinden hangisine yapması uygun olur?

- A) Uşak ilinde çay fabrikası
- B) Uşak’ta halı-kilim dokuma işletmesi
- C) Uşak ilinde demir-çelik fabrikası
- D) Uşak ilinde fındık yağı fabrikası

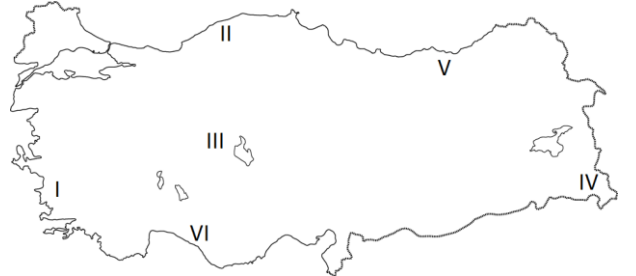
19.

Sanayi bitkisi: Fabrikalarda hammadde olarak kullanılan, işlenerek çeşitli ürünler elde edilen tarım ürünlerine sanayi bitkisi denir. Pamuktan iplik, tütünden sigara, buğdaydan makarna, ayçiçeğinden yemeklik yağ yapılır.

Buna göre aşağıda verilen tarım ürünlerinden hangisi sanayi bitkisi sayılamaz?

- A) Haşhaş
- B) Çay
- C) Şeker Pancarı
- D) Nar

20.



- I-Zeytinyağı F.
- II-Demir çelik F.
- III-Tuz Fabrikası
- IV-Meyve Suyu F.
- V-Un Fabrikası
- VI-Şeker Fabrikası

Yörelereimizin sahip olduğu özelliklere göre yatırım konulu proje ödevi hazırlayan Nafiz isimli öğrenci yukarıda hazırladığı yatırım örneği haritasında kaç numaralı örneklerde uygun yatırım yapmıştır?

- A) I, II ve III
- B) II, IV ve VI
- C) I, II ve VI
- D) IV, V ve VI